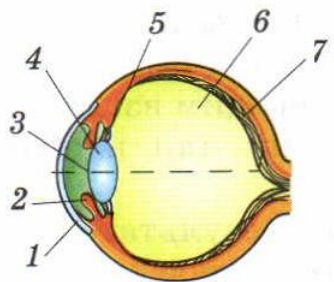
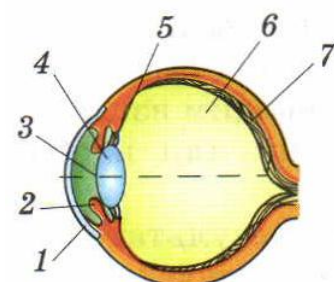
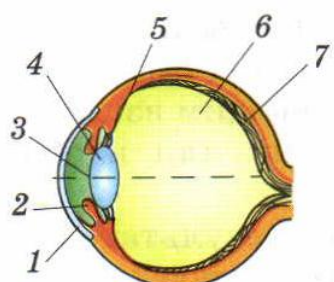


№1	В каких элементах глаза луч света преломляется?	
a	a. В роговице	
b	b. В хрусталике	
c	c. В стекловидном теле	
d	d. В сетчатке	
№2	Как на схеме обозначен хрусталик?	
a	a. №1	
b	b. №2	
c	c. №3	
d	d. №4	
		
№3	Как называется способность глаза приспосабливаться к видению как на близком, так и на далёком расстоянии?	
a	a. Акселерацией	
b	b. Энтропией	
c	c. Аккомодацией	
d	d. Телепортацией	
№4	Какой элемент глаза определяет так называемый ЦВЕТ ГЛАЗ?	
a	a. Хрусталик	
b	b. Роговица	
c	c. Зрачок	
d	d. Радужная оболочка	
№5	Как на схеме обозначен зрачок?	
a	a. №1	
b	b. №2	
c	c. №3	
d	d. №4	
		
№6	Что можно сказать об оптической силе хрусталика?	
a	a. Она неизменна	
b	b. Она может меняться	
c	c. Хрусталик не обладает оптической силой	
d	d. Среди ответов нет верного	
№7	Какая часть глаза состоит из светочувствительных элементов?	
a	a. Хрусталик	
b	b. Сетчатка	
c	c. Зрачок	
d	d. Радужная оболочка	
№8	Как на схеме обозначена радужная оболочка?	
a	a. №1	
b	b. №2	
c	c. №3	
d	d. №4	
		

№9	Какой элемент глаза меняет свои размеры в зависимости от освещённости?		
a	<input type="checkbox"/>	a. Хрусталик	
b	<input type="checkbox"/>	b. Роговица	
c	<input type="checkbox"/>	c. Зрачок	
d	<input type="checkbox"/>	d. Радужная оболочка	
№10	С каким оптическим прибором глаз имеет наибольшее сходство?		
a	<input type="checkbox"/>	a. С лупой	
b	<input type="checkbox"/>	b. С микроскопом	
c	<input type="checkbox"/>	c. С телескопом	
d	<input type="checkbox"/>	d. С фотоаппаратом	
№11	Как на схеме обозначена сетчатка?		
a	<input type="checkbox"/>		a. №1
b	<input type="checkbox"/>		b. №2
c	<input type="checkbox"/>		c. №3
d	<input type="checkbox"/>		d. №7
№12	Расстояние наилучшего зрения для нормального глаза равно ...		
a	<input type="checkbox"/>	a. 15 см	
b	<input type="checkbox"/>	b. 25 см	
c	<input type="checkbox"/>	c. 40 см	
d	<input type="checkbox"/>	d. 50 см	
№13	Какие преимущества даёт зрение ДВУМЯ глазами?		
a	<input type="checkbox"/>	a. Мы видим большее пространство	
b	<input type="checkbox"/>	b. Мы видим цветное изображение	
c	<input type="checkbox"/>	c. Мы видим предметы объёмными	
d	<input type="checkbox"/>	d. Среди ответов нет верного	