
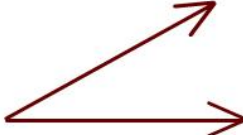




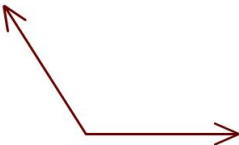
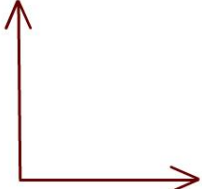


№1	Какой угол образуют стрелки часов на рисунке?	
a	a. 90°	
b	b. 120°	
c	c. 150°	
d	d. 180°	
№2	В каких единицах измеряю углы?	
a	a. В миллиметрах	
b	b. В часах	
c	c. В градусах	
d	d. В м/с	
№3	Какой угол изображён на рисунке?	
a	a. Острый	
b	b. Прямой	
c	c. Тупой	
d	d. Развёрнутый	
№4	Как часто мы в жизни измеряем углы?	
a	a. Никогда	
b	b. Редко	
c	c. Часто	
d	d. Очень часто	
№5	Какой угол образуют стрелки часов на рисунке?	
a	a. 30°	
b	b. 45°	
c	c. 60°	
d	d. 90°	
№6	Буквами какого алфавита обозначают углы в краткой записи?	
a	a. Греческого	
b	b. Латинского	
c	c. Арабского	
d	d. Русского	
№7	Какой угол образуют стрелки часов на рисунке?	
a	a. 90°	
b	b. 120°	
c	c. 150°	
d	d. 180°	
№8	Каким прибором измеряют углы?	
a	a. Рулеткой	
b	b. Линейкой	
c	c. Курвиметром	
d	d. Транспортиром	
№9	Какой угол образуют стрелки часов на рисунке?	
a	a. 30°	
b	b. 45°	
c	c. 60°	
d	d. 90°	
№10	Каких градусных мер НЕ существует?	
a	a. Градусов	
b	b. Дециградусов	
c	c. Сантиградусов	
d	d. Минут	

№11	Как в технике, географии и астрономии измеряют углы?	
a	a. Редко	
b	b. Часто	
c	c. Небрежно	
d	d. Очень тщательно	
№12	Какой угол образуют стрелки часов на рисунке?	
a	a. 20°	
b	b. 30°	
c	c. 45°	
d	d. 60°	
№13	Чему равна сумма углов треугольника?	
a	a. 90°	
b	b. 120°	
c	c. 180°	
d	d. 360°	
№14	Какой угол изображён на рисунке?	
a	a. Острый	
b	b. Прямой	
c	c. Тупой	
d	d. Развёрнутый	
№15	Стрелочные часы показывают полночь. Чему равен угол между часовой и минутной стрелками?	
a	a. 0°	
b	b. 90°	
c	c. 120°	
d	d. 180°	
№16	Какой угол изображён на рисунке?	
a	a. Острый	
b	b. Прямой	
c	c. Тупой	
d	d. Развёрнутый	
№17	В каких областях часто и тщательно измеряют углы?	
a	a. В технике	
b	b. В географии	
c	c. В астрономии	
d	d. В музыке	